

## NALEPKE

Bobrček Janezek lepi nalepke na sliko akvarija. Najprej nalepi travo, nato kamne, potem ribo in na koncu bobra. Kakšen je končni izdelek? Obkroži črko pred pravilnim odgovorom.

A.



B.



C.




D.



## ZOBNE KRTAČKE

Vsak bober ima zobno krtačko primerno svoji velikosti: najmanjši bober najmanjšo, največji bober največjo krtačko. Danes so vzeli napačne, kot kaže slika.

- Mama je naročila: "**Eva in Cilka, zamenjajta krtački!**"
- Nato nadaljuje: "**Ana in Cilka, zamenjajta krtački.**"



ANA BENO CILKA DANI EVA

Katera bobra morata še zamenjati krtački, da bo imel vsak bober svojo?

Odgovor: \_\_\_\_\_

## BISERNE OGRVICE

Princesa je na plesu nosila biserno ogrlico. Zvečer si jo je odpela in jo položila v predal k ostalim. Kot veleva navada, je morala naslednje jutro nositi isto ogrlico.

V predalu ima štiri ogrlice. Katera je prava?

Obkroži črko pred pravim odgovorom.



Princesina ogrlica

- A.
- B.
- C.
- D.

## SLIKA Z MORJA

Bober Matjaž je poslal Alenki sliko z morja. Na sliki se vidita sončnik in morje, Matjaž pa nima kape. Katero sliko je poslal? Obkroži črko ob sliki.

A.

B.

C.

D.



E.

F.

G.

H.

## ZALIVANJE

Odprt ventil, voda teče



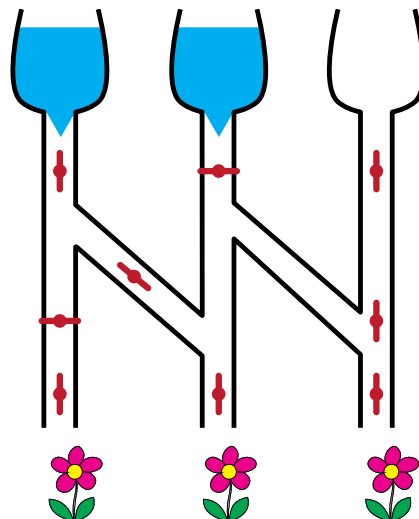
Zalita roža



Zaprta ventil, voda ne teče



Posušena roža



Katere rože bodo zalite? Obkroži črko nad pravo sliko.

A.



B.



C.



D.




## LEŠNIKI

Veverica se spušča po leski in nabira lešnike.

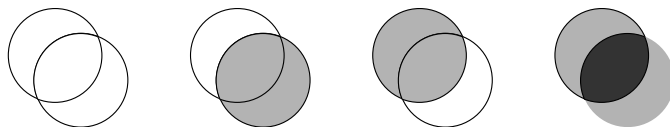
Hoditi sme le po puščicah. Koliko lešnikov bo nabrala, če gre po najboljši možni poti?

Nariši pot!

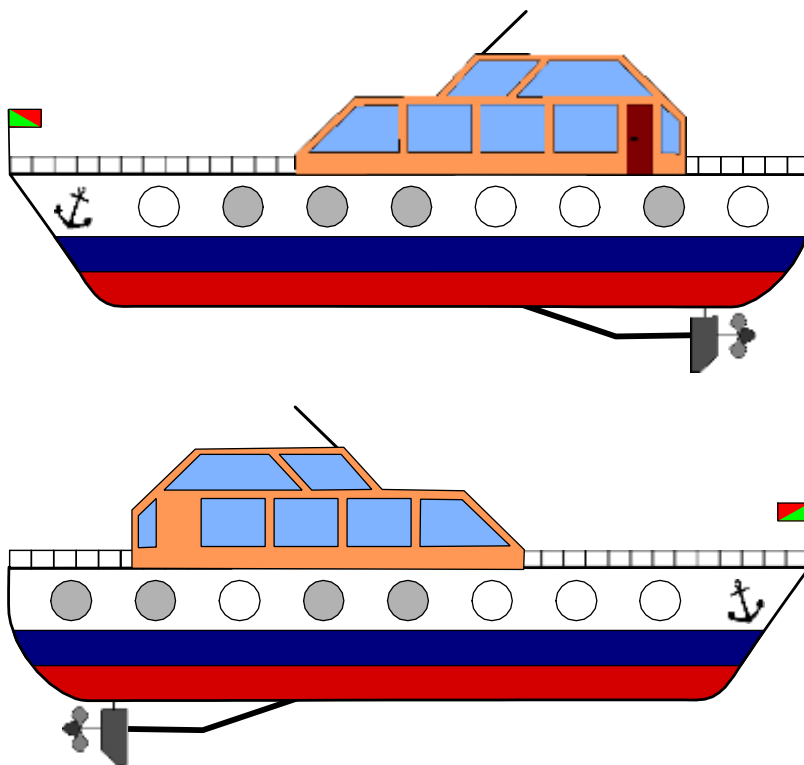


## LADIJSKA OKNA




























Ladijska okna so prosojna ali zatemnjena. Če pogledamo skozi dve zatemnjeni okni, postavljene eno za drugo, vidimo popolnoma temno okno.



Spodnji sliki kažeta levo in desno stran neke ladje.



Če se postavimo na levo stran ladje, tako da se okna na levem in desnem boku ladje ravno prekrivajo, in pogledamo "skozi ladjo", kakšna okna bomo videli?

- A.         
- B.         
- C.         
- D. 